

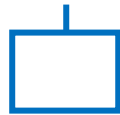
Getal van de dag



Schrijf het getal in letters:

Wie zijn de buren?

Hang het kaartje op de goede plek:




Op wie is jouw getal verliefd?

Bedenk twee sommen met het getal:

$$\square + \square = \underline{\quad}$$

$$\square - \square = \underline{\quad}$$



Splits het getal:

erbij 1


erbij 2

erbij 3


eraf 1

eraf 2


eraf 3



Wat is het dubbele?



Wat is de helft?



Teken sprongen met het getal:

